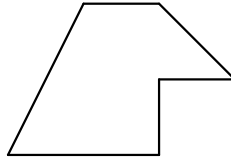


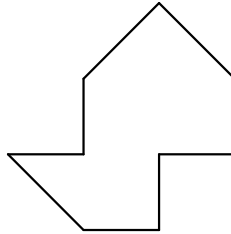
# Relaciones entre figuras

Realiza la homotecia de esta figura dada con razones de homotecia  $k=-1$  y  $k=4/5$ , dado un centro  $O$  de homotecia.



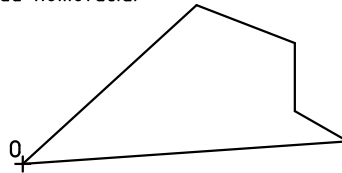
$O_+$

Realiza la homotecia de esta figura dada con razones de homotecia  $k=-2/3$  y  $k=5/4$ , dado un centro  $O$  de homotecia.



$O_+$

Realiza la homotecia de esta figura dada con razones de homotecia  $k=-3/2$  y  $k=4/6$ , dado un centro  $O$  de homotecia.



$O_+$

Fecha

Nombre

verosebastia.com

Curso

Título

aprendedibujo.net