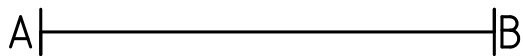
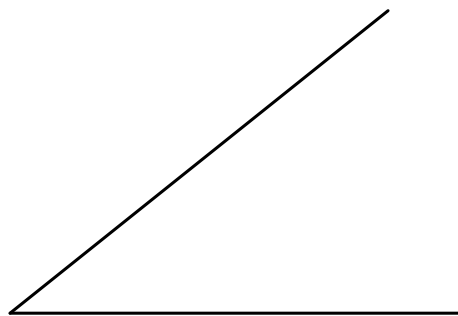



Dibuja la mediatriz del segmento AB



Dibuja la bisectriz de este ángulo.

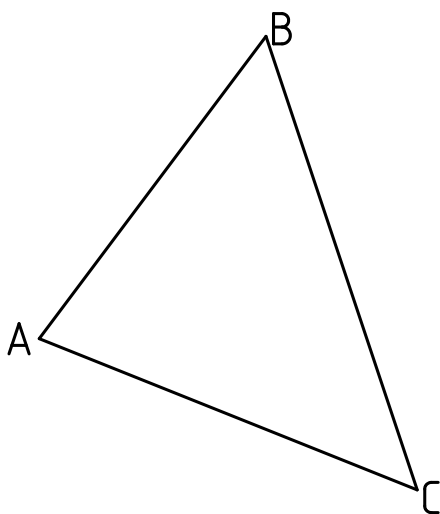


Dibuja la trisección de este ángulo recto.



Dibuja un triángulo cuyos lados midan 3cm, 4cm y 5cm.

Dibuja el circuncentro y la circunferencia que pasa por A,B y C



Dibuja un ángulo de 120°.

Fecha

Nombre

Curso 2º ESO

Título

EXAMEN

**VERO**  
**SEBASTIÀ**