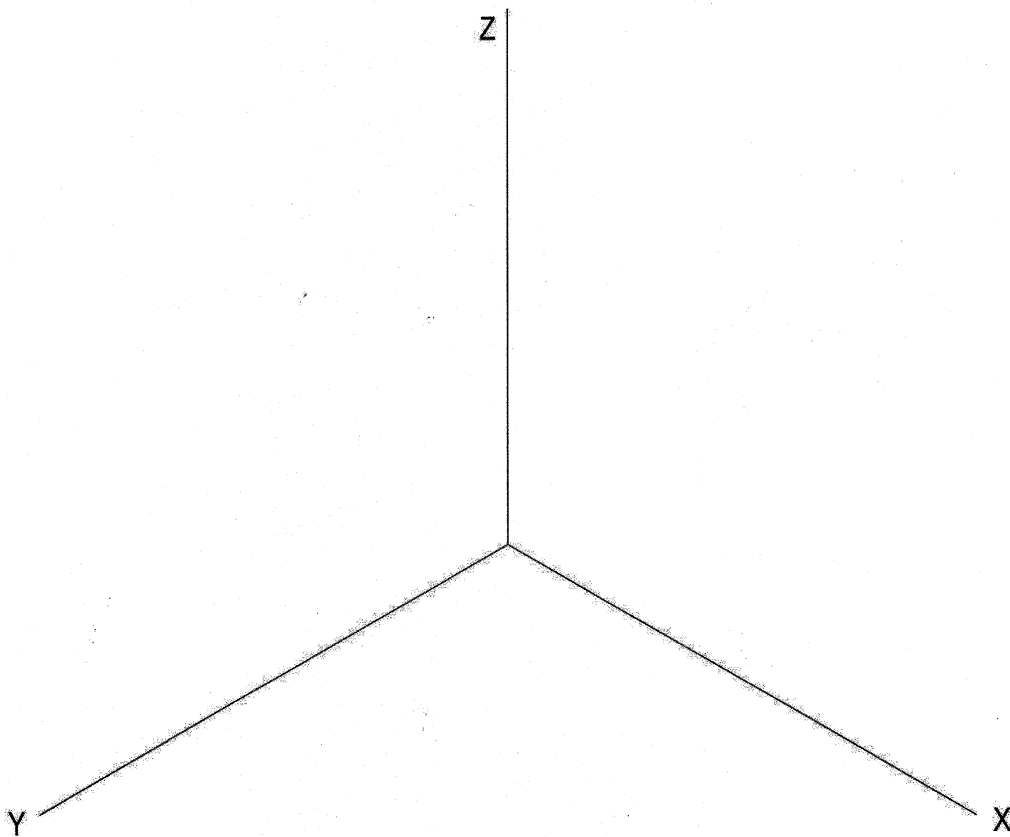
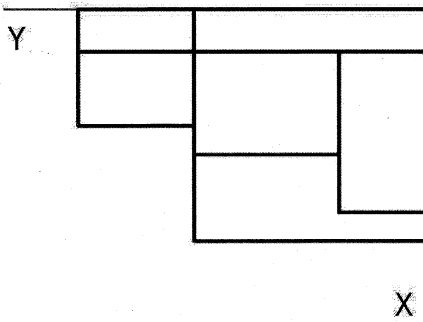
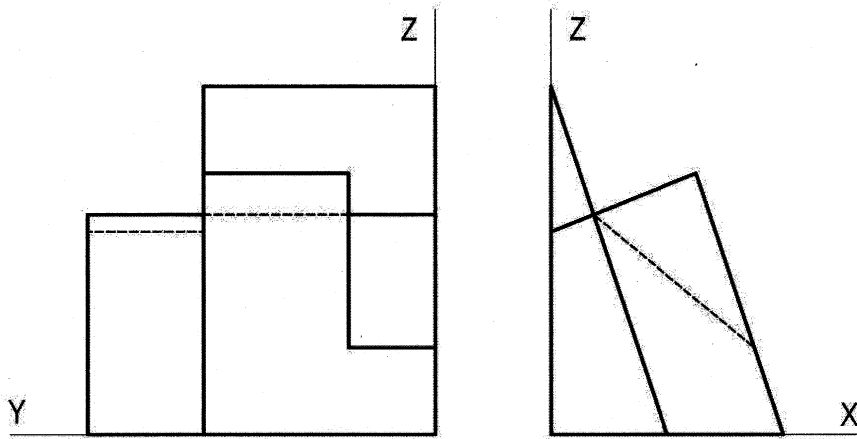


4A.- Dados el alzado, la planta y la vista lateral izquierda a **escala 3:4** de una pieza, obtenga el dibujo isométrico de la misma a **escala 1:1**. Tome las medidas directamente de la figura. Se valorará el uso de escala gráfica. (3 PUNTOS)

4A.- Donats l'alçat, la planta i la vista lateral esquerra a l'**escala 3:4** d'una peça, obteniu el dibuix isomètric d'aquesta a l'**escala 1:1**. Preneu les mesures directament de la figura. Es valorarà l'ús de l'escala gràfica. (3 PUNTS)

Junio 2017 A

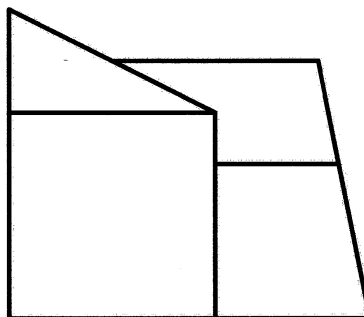
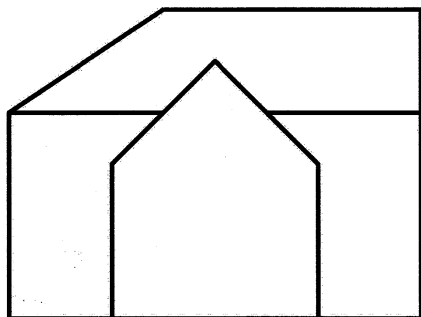


**4B.-** Dados a **escala 2:3** el alzado y el perfil izquierdo de una pieza con todas sus caras planas y aristas ocultas representadas:

- Represente la planta delineada.
- Acote completamente la pieza según norma. **Junio 2017 B**
- Represente **en croquis** (a mano alzada) una vista axonométrica de la pieza. (3 PUNTOS)

**4B.-** Donats a **escala 2:3** l'alçat i el perfil esquerre d'una peça amb totes les cares planes i arestes ocultes representades:

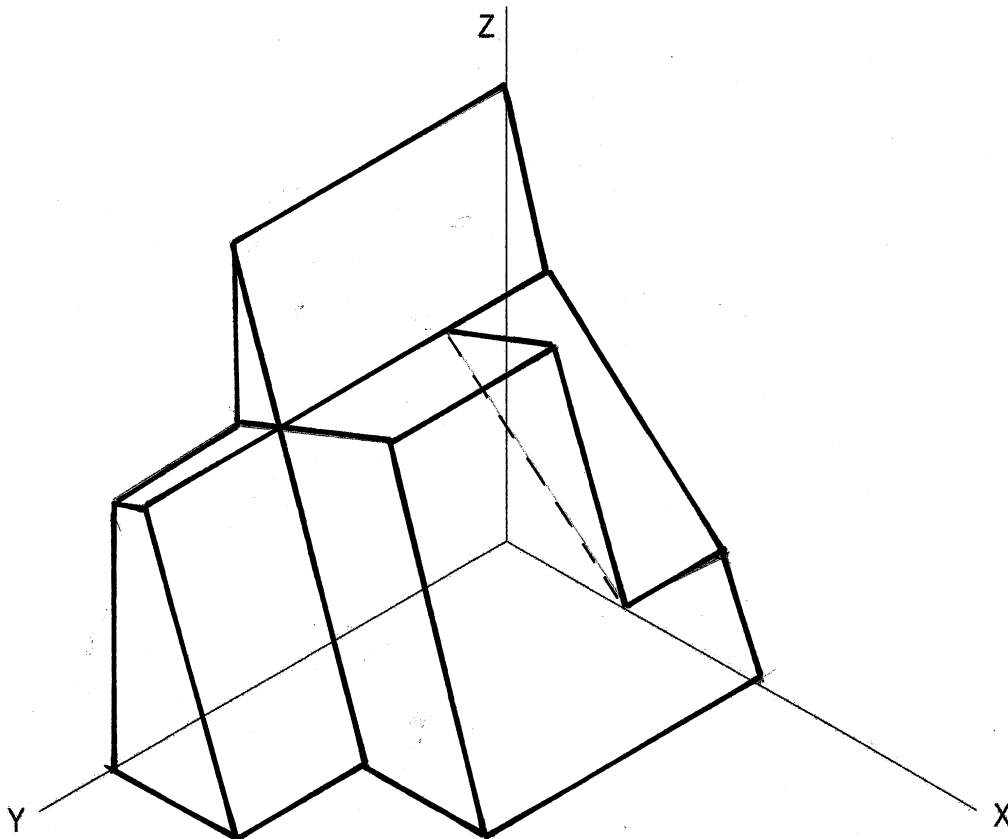
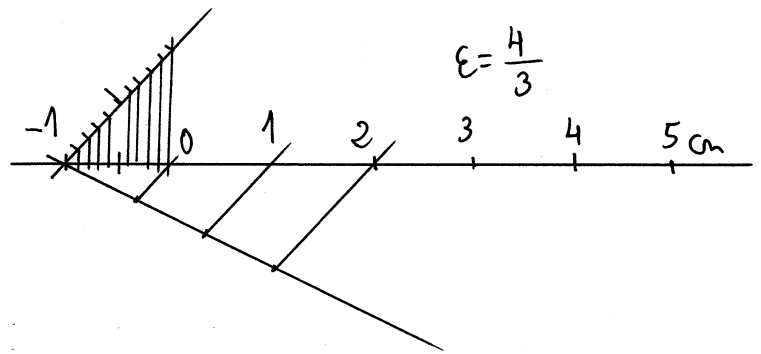
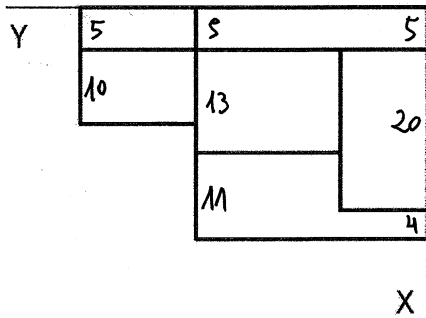
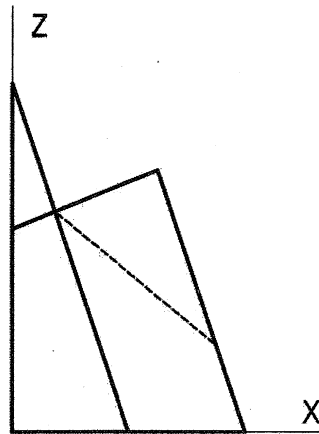
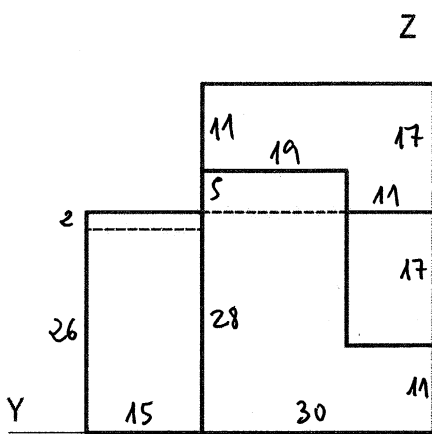
- Representeu la planta delineada.
- Acoteu completament la peça segons la norma.
- Representeu **en croquis** (a mà alçada) una vista axonomètrica de la peça. (3 PUNTS)



4A.- Dados el alzado, la planta y la vista lateral izquierda a **escala 3:1** de una pieza, obtenga el dibujo isométrico de la misma a **escala 1:1**. Tome las medidas directamente de la figura. Se valorará el uso de escala gráfica. (3 PUNTOS)

4A.- Donats l'alçat, la planta i la vista lateral esquerra a l'**escala 3:4** d'una peça, obteu el dibuix isomètric d'aquesta a l'**escala 1:1**. Preneu les mesures directament de la figura. Es valorarà l'ús de l'escala gràfica. (3 PUNTS)

Junio 2017 A



**VERO**  
SEBASTIÀ

4B.- Dados a escala 2:3 el alzado y el perfil izquierdo de una pieza con todas sus caras planas y aristas ocultas representadas:

- Represente la planta delineada.
- Acote completamente la pieza según norma.
- Represente **en croquis** (a mano alzada) una vista axonométrica de la pieza. (3 PUNTOS)

Junio 2017 B

4B.- Donats a escala 2:3 l'alçat i el perfil esquerre d'una peça amb totes les cares planes i arestes ocultes representades:

- Representeu la planta delineada.
- Acoteu completament la peça segons la norma.
- Representeu **en croquis** (a mà alçada) una vista axonomètrica de la peça. (3 PUNTS)

