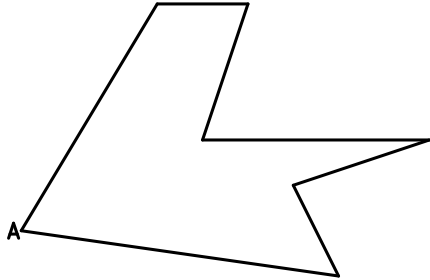
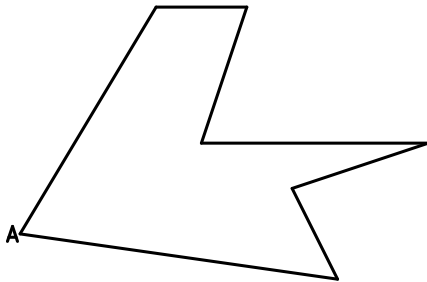


Semejanza Homotecia Homología Diferencias


Dibuja la figura semejante a la dada razón $6/4$, teniendo como origen el punto A.



Dibuja la figura homotética a la dada respecto del centro de homotecia O razón $3/4$.



Dibuja la figura homóloga a la dada respecto al eje E y sabiendo que A' es homóloga de A y conociendo el centro O de la homología.




E

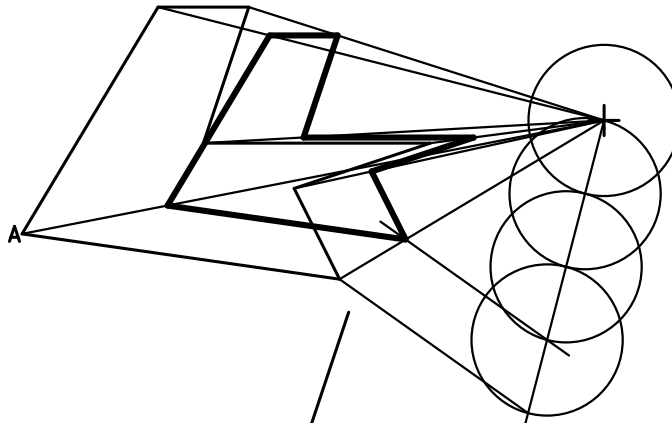
Nombre

Semejanza Homotecia Homología Diferencias

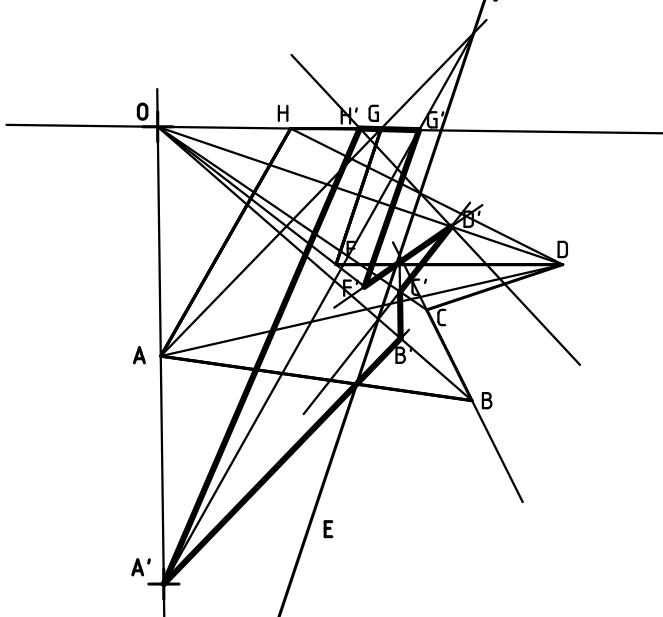
Dibuja la figura semejante a la dada razón $6/4$, teniendo como origen el punto A.



Dibuja la figura homotética a la dada respecto del centro de homotecia O razón $3/4$.



Dibuja la figura homóloga a la dada respecto al eje E y sabiendo que A' es homóloga de A y conociendo el centro O de la homología.



Nombre