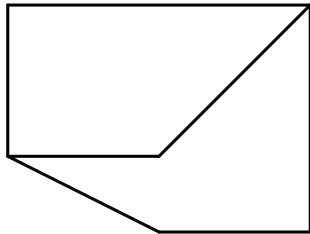
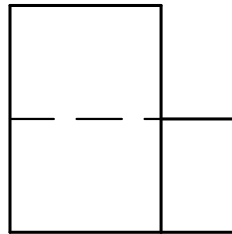
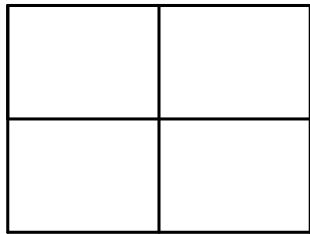


Dados el alzado, la planta y la vista lateral izquierda en diédrico a escala 1/1, dibujar la figura en isométrico a escala 4/3, acotar la figura según normas. Tomar las medidas directamente de la figura. Se valorará el uso de escala gráfica.



Fecha	Nombre	VERO SEBASTIÀ
Curso	Título Examen visualización acotación	

Dados el alzado y la planta en diédrico, visualiza las siguientes figuras en isométrica, escala 1/1.

Figura 1

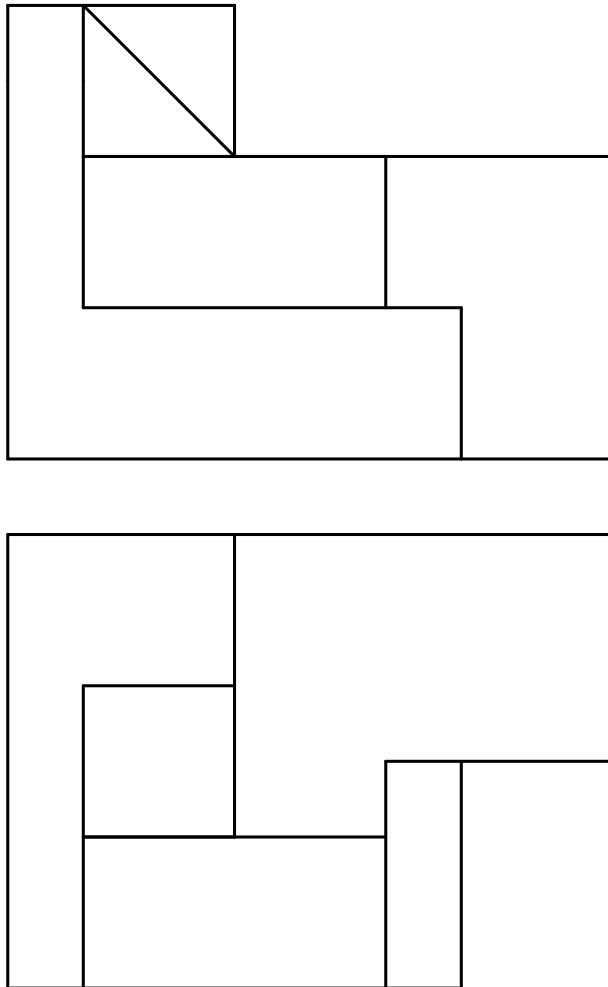
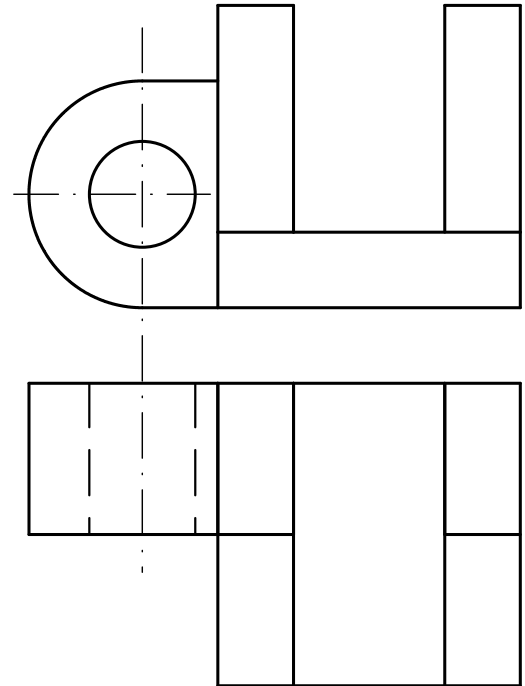


Figura 2



Fecha	Nombre	VERO SEBASTIÀ
Curso	Título Examen visualización acotación	